

Movimiento circular

Se define como movimiento circular aquél cuya trayectoria es una circunferencia.

A veces el movimiento circular no es completo: cuando un coche o cualquier otro vehículo toma una curva realiza un movimiento circular, aunque nunca gira los 360° de la circunferencia.

La experiencia nos dice que todo aquello da vueltas tiene movimiento circular. Si lo que gira da siempre el mismo número de vueltas por segundo, decimos que posee movimiento circular uniforme (MCU).

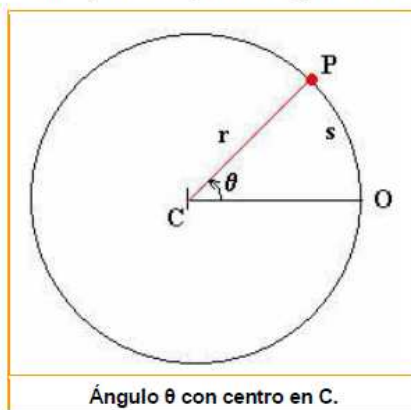
Ejemplos de cosas que se mueven con movimiento circular uniforme hay muchos: La tierra es uno de ellos. Siempre da una vuelta sobre su eje cada 24 horas. También gira alrededor del sol y da una vuelta cada 365 días. Un ventilador, un lavarropas o los viejos tocadiscos, la rueda de un auto que viaja con velocidad constante, son otros tantos ejemplos.

Pero no debemos olvidar que también hay objetos que giran con movimiento circular variado, ya sea acelerado o decelerado.

El movimiento circular en magnitudes angulares

La descripción de un **movimiento circular** puede hacerse bien en función de **magnitudes lineales** ignorando la forma de la trayectoria (y tendremos velocidad y aceleración tangenciales), o bien en función de **magnitudes angulares** (y tendremos velocidad y aceleración angulares). Ambas descripciones están relacionadas entre sí mediante el valor del radio de la circunferencia trayectoria.

Al trabajar con magnitudes angulares es imprescindible entender lo relativo a una unidad de medida angular conocida como **radián**.



El radián

Si tenemos un ángulo cualquiera y queremos saber cuánto mide, tomamos un transportador y lo medimos. Esto nos da el ángulo medido en grados. Este método viene de dividir la circunferencia en 360°, y se denomina sexagesimal.

(Para usar la calculadora en grados hay que ponerla en **DEG**, Degrees, que quiere decir grados en inglés).

El sistema de grados sexagesimales es **una** manera de medir ángulos, pero hay otros métodos, y uno de ellos es usando radianes.

Ahora veamos el asunto de medir los ángulos pero en **radianes**.

Para medir un ángulo en radianes se mide el largo del arco (s) abarcado por el ángulo θ de la figura a la izquierda. Esto se puede hacer con un centímetro, con un hilito o con lo que sea. También se mide el radio del círculo.

Para obtener el valor del ángulo (θ) en radianes usamos la fórmula:

$$\theta_{(\text{rad})} = \frac{\text{arco}}{\text{radio}}$$

y tenemos el ángulo medido en radianes

Hacer la división del arco sobre radio significa ver cuántas veces entra el radio en el arco. Como el radio y el arco deben medirse en la misma unidad, el radián resulta ser **un número sin unidades**.

Esto significa que el valor del ángulo en radianes solo me indica cuántas veces entra el radio en el arco. Por ejemplo, si el ángulo θ mide 3 radianes, eso significa que el radio entra 3 veces en el arco abarcado por ese ángulo.

Su quisiéramos calcular o conocer al valor del arco, hacemos:

$$\text{arco} = \theta_{(\text{rad})} \cdot \text{radio}$$

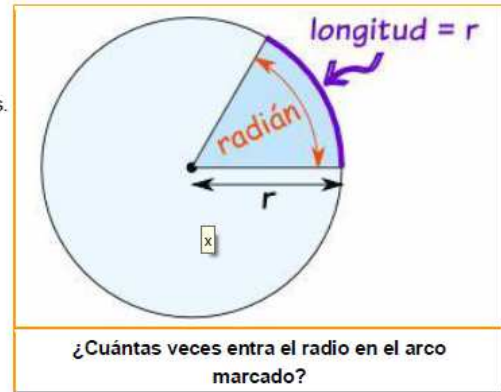
¿A cuántos grados equivale un radián?

Pero el valor de un ángulo en radianes se puede expresar (convertir) en grados. En una **circunferencia** entera (360°) el arco entero es el **perímetro**, que es igual a 2 Pi por radio ($2\pi \cdot r$). Así, a partir de la fórmula

$$\theta_{(\text{rad})} = \frac{\text{arco}}{\text{radio}} \text{ es que } 360^\circ \text{ equivalen a:}$$

$$360^\circ = \frac{2\pi \cdot r}{r} = 2\pi \text{ rad}$$

$$\Rightarrow 1 \text{ rad} = \frac{360^\circ}{2\pi} = \frac{360^\circ}{2(3,14)} = \frac{360^\circ}{6,28} = 57,3^\circ$$



Un ángulo de un radián equivale a un ángulo de 57,3°.

Para usar la calculadora en radianes hay que ponerla en "RAD"

Periodo y frecuencia

La principal característica del movimiento circular uniforme es que en cada vuelta o giro completo de 360°, equivalente a un ciclo, se puede establecer un punto fijo como inicio y fin del ciclo.

En física, los ciclos son también llamados revoluciones para un determinado tiempo.

El **periodo (T)** de un movimiento circular es el tiempo que tarda una partícula o un cuerpo en realizar una vuelta completa, revolución o ciclo completo.

Por ejemplo, el periodo de rotación de la tierra es 24 horas. El periodo de rotación de la aguja grande del reloj es de 1 hora. La unidad utilizada para el periodo es el segundo o, para casos mayores, unidades mayores.

Conocida la frecuencia (en ciclos o revoluciones por segundo) se puede calcular el periodo (T) mediante la fórmula:

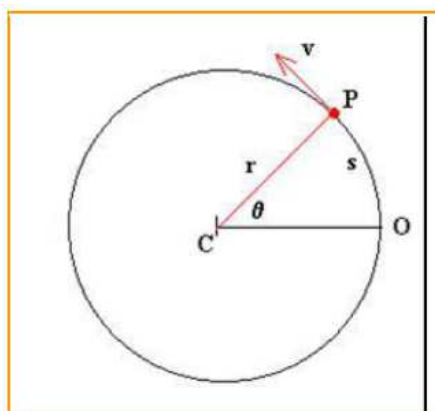
$$T = \frac{1}{F} \quad T = \frac{\text{seg}}{\text{ciclo}}$$

Se denomina **frecuencia (F)** de un movimiento circular al número de revoluciones, vueltas o ciclos completos durante la unidad de tiempo. La unidad utilizada para cuantificar (medir) la frecuencia de un movimiento es el **hertz (Hz)**, que indica el número de revoluciones o ciclos por cada segundo.

Para su cálculo, usamos la fórmula

$$F = \frac{1}{T} \quad F = \frac{\text{ciclos}}{\text{seg}} \text{ o hertz}$$

(En ocasiones se usa, en vez de **hertz**, seg^{-1} o s^{-1}). Nótese que la frecuencia (F) es la inversa del periodo (T).



Imaginemos el punto rojo (P) como una piedra que gira amarrada al punto C.

Una vez situado el origen O describimos el movimiento circular mediante las siguientes magnitudes angulares.

Posición angular (θ)

Podemos imaginar, como ejemplo, que se tiene una piedra amarrada a una cuerda y la movemos en círculos de radio r. En un instante de tiempo t el móvil (en nuestro caso la piedra) se encuentra en el punto P. Su posición angular (lo que la piedra ha recorrido en la circunferencia) viene dada por el ángulo θ, formado por el punto P, el centro de la circunferencia C y el origen O (desde donde empezó a girar la piedra).

La velocidad angular (ω)

Cuando un objeto se mueve en una circunferencia, llevará una velocidad, ya que recorre un espacio, pero también **recorre un ángulo**.

Para tener una idea de la rapidez con que algo se está moviendo con movimiento circular, se ha definido la velocidad angular (ω) como el número de vueltas que da el cuerpo por unidad de tiempo.

Mecánica Técnica

Si un cuerpo tiene gran velocidad angular quiere decir que da muchas vueltas por segundo.

De manera sencilla: en el movimiento circular la velocidad angular está dada por la cantidad de vueltas que un cuerpo da por segundo.

Otra manera de decir lo mismo sería: en el movimiento circular la velocidad angular está dada por el ángulo recorrido (θ) dividido por unidad de tiempo. El resultado está en grados por segundo o en rad por segundo.

$$\text{velocidad angular } \omega = \frac{\Delta\theta \leftarrow \text{ángulo recorrido}}{\Delta t \leftarrow \text{tiempo empleado}}$$

$$\omega = \frac{\theta}{t}$$

ω = velocidad angular en rad/seg.

θ = desplazamiento angular en rad.

t = tiempo en segundos en que se efectuó el desplazamiento angular.

La velocidad angular también se puede determinar si sabemos el tiempo que tarda en dar una vuelta completa o periodo (T):

$$\omega = \frac{2\pi}{T}$$

Como $T = \frac{1}{F}$ entonces $\omega = \frac{2\pi}{\frac{1}{F}} = 2\pi \cdot \frac{F}{1} = 2\pi F \frac{\text{rad}}{\text{seg}}$

Aquí debemos apuntar que una misma velocidad angular se puede expresar de varias maneras diferentes.

Por ejemplo, para las lavadoras automáticas o para los motores de los autos se usan las **revoluciones por minuto (rpm)**. También a veces se usan las **rps (revoluciones por segundo)**.

También se usan los **grados por segundo** y los **radianes por segundo**.

Es decir, hay muchas unidades diferentes de velocidad angular. Todas se usan y hay que saber pasar de una a otra, lo que se hace aplicando una regla de 3 simple.

Por ejemplo, pasar una velocidad de 60 rpm a varias unidades diferentes:

$$60 \text{ rpm} = \frac{1 \text{ rev}}{\text{seg}} = \frac{360^\circ}{\text{seg}} = \frac{2\pi \text{ rad}}{\text{seg}}$$

La más importante de todas las unidades de velocidad angular es **radianes por segundo**. Esta unidad es la que se usa en los problemas.

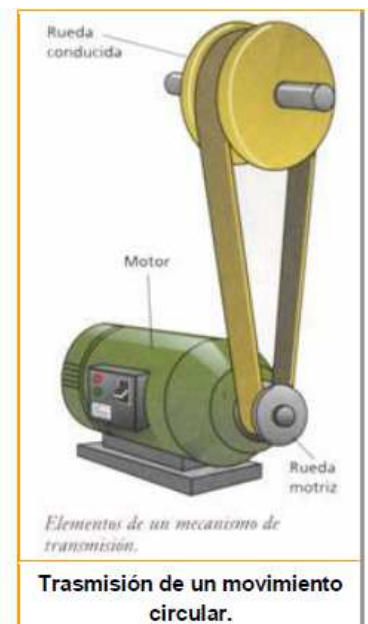
Nota importante:

Según lo anterior es correcto, entonces, decir que la velocidad angular es

$$\omega = \frac{\text{radianes}}{\text{segundo}}, \text{ pero resulta que el radián es sólo un número comparativo, por lo mismo que}$$

la palabra radián suele no ponerse y en la práctica la verdadera unidad es $\frac{1}{\text{seg}}$, que también puede ponerse como $\frac{1}{\text{s}}$, e incluso como s^{-1} .

En efecto, muchas veces la velocidad angular se expresa en segundos elevado a menos uno (s^{-1}) y para quienes no lo saben resulta incomprensible.



La velocidad tangencial (v)

Aparte de la **velocidad angular**, también es posible definir la **velocidad lineal** de un móvil que se desplaza en círculo.

Por ejemplo, imaginemos un disco que gira. Sobre el borde del disco hay un punto que da vueltas con movimiento circular uniforme.

Ese punto tiene siempre una velocidad lineal que es tangente a la trayectoria. Esa velocidad se llama **velocidad tangencial**.

Para calcular la velocidad tangencial hacemos: espacio recorrido sobre la circunferencia (o arco recorrido) dividido por el tiempo empleado, que expresamos con la fórmula:

$$v_t = \frac{\text{arco}}{t} = \frac{\theta_{(\text{rad})} \cdot r}{t} \text{ pero como } \frac{\theta_{(\text{rad})}}{t} = \omega \text{ entonces } v_t = \omega \cdot r \text{ que se lee velocidad tangencial es igual a velocidad angular multiplicada por el radio.}$$

Como la velocidad angular (ω) también se puede calcular en función del periodo (T) con la fórmula $\omega = \frac{2\pi}{T}$ y la velocidad tangencial siempre está en función del radio, entonces la fórmula $v_t = \omega \cdot r$ se convierte en $v_t = \frac{2\pi r}{T}$ que se lee: la velocidad tangencial es igual a 2 pi multiplicado por el radio (r) y dividido por el periodo (T).

Además, como ω (velocidad angular) se expresa en $\frac{1}{\text{seg}}$ y el radio se expresa en metros, las unidades de la velocidad tangencial serán metros por segundo (m/seg).

Ejercicios sobre movimiento circular uniforme

Ejercicio 1)

Un móvil con trayectoria circular recorrió 820° ¿Cuántos radianes son?

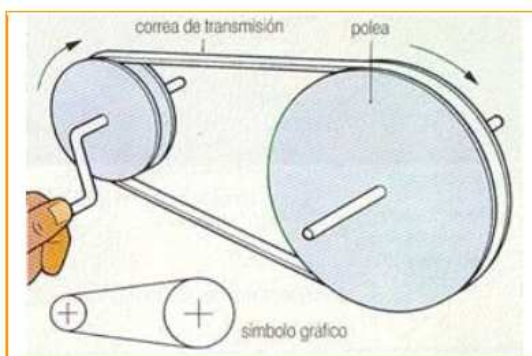
Desarrollo

Sabemos que 1 rad = 57,3°

Entonces $\frac{820^\circ}{57,3^\circ} = 14,31 \text{ radianes}$

Actividad:

Calcular y completar los espacios con puntos rojos



Como en un tractor, la rueda delantera es más chica.

Un tractor tiene una rueda delantera de 30 cm de radio, mientras que el radio de la trasera es de 1 m. ¿Cuántas vueltas habrá dado la rueda trasera cuando la delantera ha completado 15 vueltas?

Desarrollo:

En este ejercicio la longitud (distancia, espacio) que recorre cada rueda en una vuelta corresponde al perímetro de cada una (**perímetro del círculo**), cuya fórmula es $P = 2 \cdot \pi \cdot r$, entonces:

$$P_1 = 2 \cdot \pi \cdot 0,3 \text{ m} = \dots \text{ m}$$

$$P_2 = 2 \cdot \pi \cdot 1 \text{ m} = \dots \text{ m}$$

Entonces, si en una vuelta la rueda delantera recorre 1,884 metro, en 15

vueltas recorrerá: $15 \cdot \dots \text{ m} = \dots \text{ m}$

¿Cuántas veces la rueda trasera ha tenido que girar (dar una vuelta) para recorrer esa distancia de 28,26 m?

Dividimos esa distancia por la distancia recorrida en una vuelta por la rueda trasera:

$$28,26 \text{ m} : \dots \text{ m} = \dots \text{ vueltas.}$$

Por lo tanto, la rueda trasera ha tenido que dar.....para recorrer la misma distancia que la delantera ha recorrido en 15 vueltas.